

Curso: 1°BASICO

Asignatura: Matemática

Clase: N° 4

Instructivo: Desarrollar evaluación.

Evaluación debe ser desarrollada por el alumno.

Favor supervisar que evaluación sea similar a la desarrollada en clases.

(Por ej. No interrumpir al alumno si presenta algún error, el error debe ser corregido después con estudio y ejercitación, no en la evaluación. Para que en otra oportunidad de evaluación éste el aprendizaje) Muchas gracias.

Pegar evaluación en cuaderno o traspasar al cuaderno.

* Mandar fotos con las actividades realizadas a mi correo profesorajessica35@gmail.com

Contenido: Identificar los sonidos que componen las palabras (conciencia fonológica), reconociendo, separando y combinando sus fonemas y sílabas.



NOMBRE: _____

1° BÁSICO

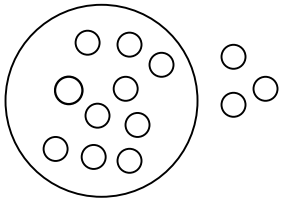
FECHA: _____

1 **Completa** las secuencias numéricas

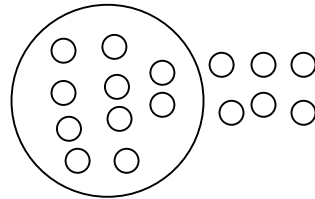
0			3			6		8	
---	--	--	---	--	--	---	--	---	--

10		12			15		17		
----	--	----	--	--	----	--	----	--	--

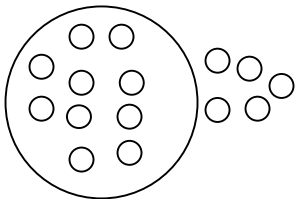
2 **Escribe** el número representado en D y U.



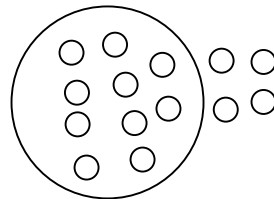
___ D y ___ U



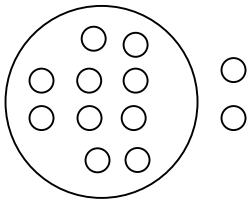
___ D y ___ U



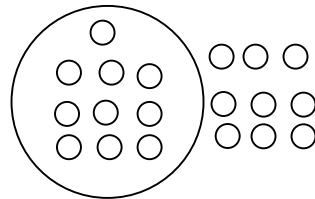
___ D y ___ U



___ D y ___ U



___ D y ___ U



___ D y ___ U

3 **Representa** los siguientes números en el ábaco

D	U

1 7

D	U

1 2

D	U

1 5

D	U


1 9

4 **Dibuja** reconociendo D y U

1 D y 4 U	1 D y 6 U	1 D y 8 U
-----------	-----------	-----------

5 Une con una línea cada número con la cantidad correspondiente.

13



8



7



5



14



17



6 Observa el ejemplo y realiza los ejercicios siguiendo el modelo.

$$1D + 3U = 13$$

$$1D \text{ y } 5U = \square$$

$$1D + 4U = \square$$

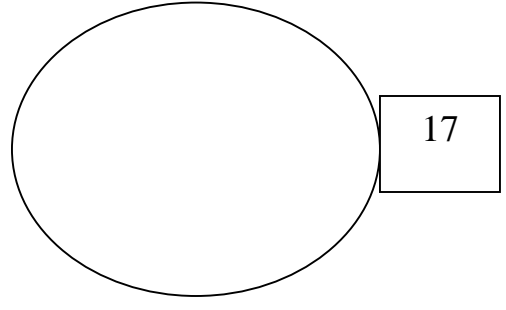
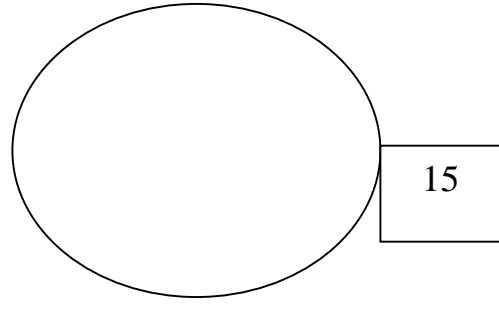
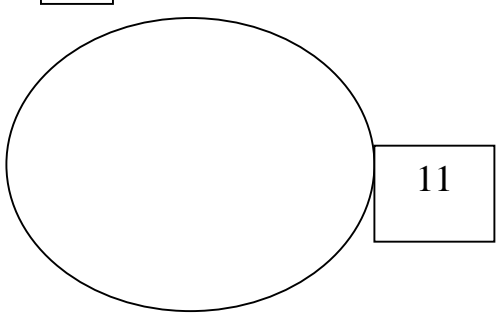
$$1D + 6U = \square$$

$$1D + 0U = \square$$

$$1D + 9U = \square$$

$$1D + 7U = \square$$

7 **Dibuja** según el número indicado: (ordenado)



*** Tu puedes ***

