

Curso: 1°BASICO

Asignatura: Matemática

Clase: N° 5

Instructivo: Desarrollar evaluación.

Evaluación debe ser desarrollada por el alumno.

Favor supervisar que evaluación sea similar a la desarrollada en clases.

(Por ej. No interrumpir al alumno si presenta algún error, el error debe ser corregido después con estudio y ejercitación, no en la evaluación. Para que en otra oportunidad de evaluación éste el aprendizaje) Muchas gracias.

Pegar evaluación en cuaderno o traspasar al cuaderno.

* Mandar fotos con las actividades realizadas a mi correo profesorajessica35@gmail.com

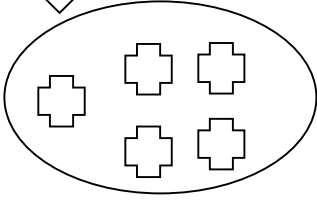
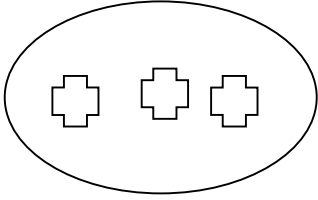


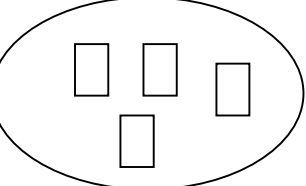
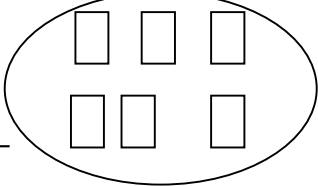
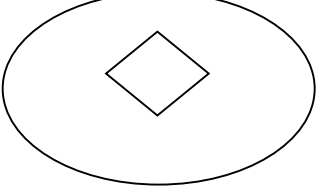
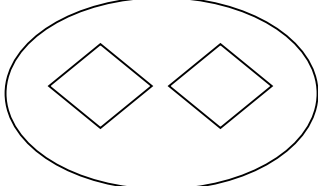
Contenido: OA4 Comparar y ordenar números del 0 al 20 de menor a mayor y/o viceversa, utilizando material concreto y/o software educativo.

NOMBRE: _____ 1° BÁSICO FECHA: _____

1

Coloca el signo $>$ $<$ o $=$ en los conjuntos.



	_____				_____	
	_____				_____	













2

Coloca el signo $>$ $<$ o $=$ a los siguientes números.

- | | | |
|-------------|-------------|-------------|
| 6 _____ 12 | 15 _____ 15 | 24 _____ 3 |
| 30 _____ 20 | 8 _____ 10 | 11 _____ 19 |
| 7 _____ 7 | 28 _____ 1 | 25 _____ 14 |
| 6 _____ 9 | 10 _____ 12 | 24 _____ 26 |
| 14 _____ 14 | 2 _____ 5 | 5 _____ 6 |

3

Coloca el signo $>$ $<$ o $=$ a los dibujos.

	_____			_____	
	_____			_____	
	_____			_____	

4

Completa los ábacos con rayitas y coloca el signo $>$ $<$ o $=$.

9	○	7	5	○	3	6	○	6	2	○	4	1	○	8	3	○	1
---	---	---	---	---	---	---	---	---	---	---	---	---	---	---	---	---	---

5. **Ordena** los números de menor a mayor.



9 - 10 - 8 - 2 - 4



10 - 3 - 0 - 8 - 11



20 - 2 - 11 - 15 - 7



18 - 16 - 3 - 14

6. **Ordena** los números de mayor a menor



1 - 8 - 3 - 14



10 - 9 - 0 - 19

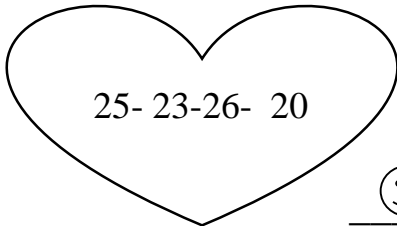


7 - 2 - 10 - 13



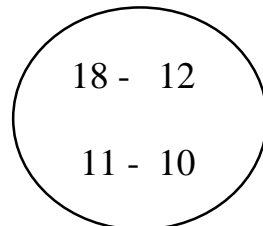
6 - 9 - 17 - 18

7- **Ordena** los números de menor a mayor



25 - 23 - 26 - 20

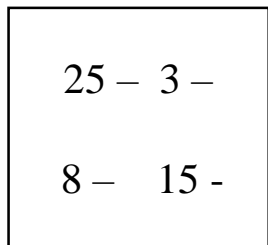




18 - 12

11 - 10

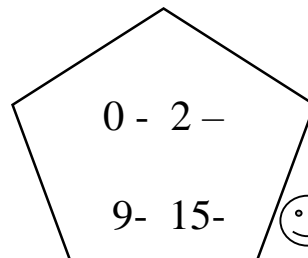




25 - 3 -

8 - 15 -





0 - 2 -

9 - 15 -



7- **Completa** la secuencia de números.

