

Curso: 1°BASICO

Asignatura: Historia

Clase: N° 11

Instructivo: - 1. Revisar en Libro de Historia Página 99 a la 123.  
(Libro no mandar fotos). Actividad opcional, sólo de lectura.

2. Desarrollar guía de trabajo con nota.  
Pintar dibujos que correspondan de forma ordenada y clara.  
Pegar guía en cuaderno para que quede como materia.

Favor enviar copia o foto de la guía con nota para revisar. Gracias

Nuevo correo: [jhurtado.clases@colegionuevanazaret.cl](mailto:jhurtado.clases@colegionuevanazaret.cl)



Contenido: OA5-OA6-OA7

➤ Símbolos de Chile. Nuestro país se llama Chile y es representado por estos símbolos.



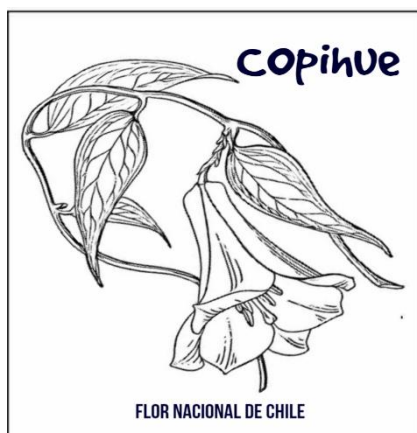
1. Dibujar la bandera chilena y píntala.

2. Observar el escudo y pintar según modelo




3. Escribir el nombre de los dos animales del escudo.

Pinta




El baile nacional es la


4. **Pintar** el Himno Nacional de Chile.



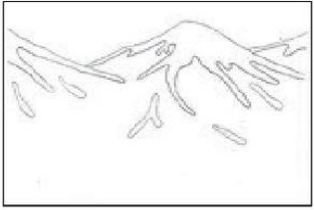
Puro, Chile, es tu cielo azulado  
Puras brisas te cruzan también,




Y tu campo, de flores bordado,  
Es la copia feliz del Edén.



Dulce Patria, recibe los votos  
Con que Chile en tus aras juró  
///Que o la tumba serás de los libres  
O el asilo contra la opresión///  
//O el asilo contra la opresión//



Majestuosa es la blanca montaña  
//Que te dió por baluarte el Señor//




//Y ese mar que tranquilo te baña  
Te promete futuro esplendor//

5. **Reconocer** algunas efemérides destacadas chilenas.

Una **efeméride** es un hecho relevante escrito **para** ser recordado o conmemorado.

- Investigar y dibujar otra efeméride chilena.

Día del trabajo



➤ Expresiones culturales de Chile.

6. **Identificar** Fiestas típicas chilenas.

Fiesta de San Pedro




Tapati- Rapa Nui



Fiesta de la Vendimia



-Dibujar la fiesta de "La Minga"



7. **Reconocer** música e instrumentos chilenos.

– **Dibujar** instrumentos según zona.  
Zampoña (norte) - Arpa (centro) - Bombo (sur)

Zona Norte - Música Andina



Zona Sur - Música chilota



Zona Centro - Cuecas y tonadas



8. **Elegir** y dibujar uno de los bailes representativo chileno.

Bailes

Zona Norte

Trote  
Cachimbo  
Carnavalito  
Cacharpaya

Zona Sur

Cueca chilota  
Pericono  
Vals  
Sirilla

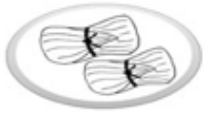
Zona Centro

Cueca  
Mazamorra  
Refalosa  
Polca



9. **Identificar** comidas típicas chilenas. Dibujar comidas típicas chilenas.

Las humitas son comida típica chilena.



10. **Escribir** el nombre al juego típico chileno.

 <u>Emboque</u>			



Flora se refiere a \_\_\_\_\_.

Fauna se refiere a \_\_\_\_\_.

11. **Reconocer** y dibujar flora y fauna chilena.


Zona norte



Zona centro



Zona sur



➤ Hombres y mujeres que han contribuido a la sociedad chilena.

12. **Unir** cada personaje destacado con su nombre.



- Arturo Prat
- Gabriela Mistral
- Pablo Neruda
- Bernardo O'Higgins



13. **Encerrar** la respuesta correcta.

Es considerado el Padre de la Patria.



14. **Leer** poema.

**Piececitos**  
(Gabriela Mistral)

• Piececitos de niño,  
azulosos de frío,  
¡cómo os ven y no os  
cubren,  
Dios mío!

¡Piececitos heridos  
por los guijarros todos,  
ultrajados de nieves  
y lodos!

El hombre ciego ignora  
que por donde pasáis,  
una flor de luz viva  
dejáis; que allí donde ponéis  
la plantita sangrante,  
el nardo nace más


fragante.

Sed, puesto que marcháis  
por los caminos rectos,  
heroicos como sois  
perfectos.

Piececitos de niño,  
dos joyitas sufrientes,  
¡cómo pasan sin veros  
las gentes!



15. **Dibujar** algo relacionado con el poema y escribe el autor.



Autor: \_\_\_\_\_